

GABARITO - ENSINO TÉCNICO MODULAR

Prova 25/06/2023

QUESTÃO	ALTERNATIVA
1	E
2	D
3	ANULADA
4	B
5	B
6	C
7	E
8	A
9	E
10	C
11	C
12	E
13	D
14	B
15	D
16	C
17	E
18	D
19	B
20	A

QUESTÃO	ALTERNATIVA
21	E
22	D
23	C
24	B
25	D
26	C
27	B
28	A
29	D
30	E
31	C
32	C
33	B
34	E
35	A
36	D
37	D
38	D
39	A
40	C



LÍNGUA PORTUGUESA

Questão 1 – Qual ditado popular significa que é melhor examinar as coisas com cautela e cuidado para não tomar decisões, ou agir, baseado em aparências?

- a) "Quem tem boca vai a Roma."
- b) "De grão em grão, a galinha enche o papo."
- c) "Antes tarde do que nunca."
- d) "Água mole em pedra dura, tanto bate até que fura."
- e) "Nem tudo que reluz é ouro."

Questão 2 – Leia a fábula para responder à questão.

O cão e a carne (Esopo)

Um cão levava na boca um pedaço de carne, e ao atravessar um rio, vendo a carne refletida na água, pareceu-lhe esta maior e soltou a que levava nos dentes para apanhar a que via dentro de água. Porém, como a corrente do rio arrastou a carne verdadeira, com ela foi também o seu reflexo, e ficou o cão sem uma e nem a outra.

O ditado popular que melhor traduz a moral da fábula é:

- a) "O cão que ladra não morde".
- b) "Pimenta nos olhos dos outros é refresco".
- c) "Deus escreve certo por linhas tortas."
- d) "Mais vale um pássaro na mão do que dois voando".
- e) "Um dia é da caça, outro do caçador".

Leia o anúncio para responder às questões 3 e 4

Adaptado de:

<https://br.pinterest.com/pin/429953095676005173/>

Acesso em: 24/05/2023

Questão 3 – A frase "É um pouco mais caro, mas é muito melhor", na parte inferior do anúncio, é uma paráfrase de qual trecho do enunciado principal?

- a) É claro que existem empresas mais baratas.
- b) Mas é isso que você quer.
- c) Mas é isso que você quer, mais baratas?
- d) As empresas mais baratas podem não oferecer um serviço de qualidade.
- e) Empresas baratas não garantem o fim das baratas.

Questão 4 – O anúncio trabalha com as relações de sentido que palavras podem assumir em determinado contexto. Indique qual palavra e recurso semântico são utilizados com intenção e estratégia?

- a) A palavra é "baratas" e o recurso é a polissemia.
- b) A palavra é "baratas" e o recurso é a homonímia.
- c) A palavra é "baratas" e o recurso é a sinonímia.
- d) A palavra é "INSETISAN" e o recurso é a polissemia.
- e) A palavra é "INSETISAN" e o recurso é a homonímia.

Texto para as questões de 5 a 8

Tesla apresenta robô capaz de realizar tarefas humanas

Ainda em fase de desenvolvimento, o Tesla Bot aparece caminhando pela fábrica em que futuramente atuará produzindo novos carros, segundo Elon Musk.

Caminhar pelo escritório, observar os detalhes da área externa da empresa e pegar objetos sem dificuldade, todas essas ações podem ser vistas no vídeo divulgado pela Tesla, empresa automotiva de Elon Musk. Mas o que chamou a atenção dos milhares de pessoas que apertaram o *play* foi que tudo isso é executado por robôs.

Em 2022, quando o Tesla Bot, como são chamados os robôs humanoides da companhia, foi apresentado, ele era capaz de dar apenas alguns passos. Seguindo em fase de desenvolvimento, ainda longe da versão final, o robô mostrou sua evolução ao apresentar habilidades humanas comuns como caminhar, reconhecer cenários e pegar objetos.

A ideia de Musk é que esses robôs realizem atividades chatas e repetitivas que hoje são feitas por humanos. O objetivo do empresário é de que futuramente eles atuem na linha de produção dos veículos da Tesla, aumentando a fabricação anual para 5 milhões de carros elétricos.

Além de integrar o time da montadora, o Tesla Bot será vendido a outras empresas. A expectativa é de que o valor da unidade chegue a 20 mil dólares (cerca de 99,3 mil reais) e os robôs revolucionem o mercado, tornando-se essenciais para o aumento da produção e do lucro das empresas.



<https://www.tinoeconomico.com.br/tesla-apresenta- robo-capaz-de-realizar-tarefas-humanas/>

Acesso em: 24/05/2023

Questão 5 – De acordo com o texto, qual é o objetivo principal com o Tesla Bot desenvolvido pela Tesla?

- a) Realizar atividades chatas e repetitivas atualmente feitas por humanos.
- b) Aumentar a fabricação anual de carros elétricos para 5 milhões.
- c) Integrar o time da montadora Tesla.
- d) Tornar-se essencial para o aumento do lucro das empresas.
- e) Revolucionar o mercado de robôs humanoides.

Questão 6 – Quais habilidades o Tesla Bot demonstrou ao evoluir em sua fase de desenvolvimento?

- a) Dar apenas alguns passos e observar os detalhes da área externa da empresa.
- b) Reconhecer cenários e aumentar a fabricação anual de veículos.
- c) Caminhar, reconhecer cenários e pegar objetos.
- d) Ser vendido a outras empresas por 20 mil dólares.
- e) Tornar-se essencial para o aumento da produção das empresas.

Questão 7 – A expressão “além de”, que inicia o último parágrafo do texto, tem a função de:

- a) introduzir uma oposição em relação às informações dos parágrafos anteriores.
- b) estabelecer as condições para a comercialização do Tesla Bot.
- c) apresentar a causa para desenvolvimento do robô.
- d) comparar todas as possibilidades de retorno do investimento.
- e) acrescentar uma nova informação sobre as intenções da Tesla com o robô.

Questão 8 – No parágrafo “Caminhar pelo escritório, observar os detalhes da área externa da empresa e pegar objetos sem dificuldade, todas essas ações podem ser vistas no vídeo divulgado pela Tesla, empresa automotiva de Elon Musk. **Mas** o que chamou a atenção dos milhares de pessoas que apertaram o *play* foi que tudo isso é executado por robôs.” A expressão destacada pode, sem alteração de sentido, ser substituída por:

- a) entretanto.
- b) mas também.
- c) portanto.
- d) embora.
- e) afinal.

Questão 9 – No texto “Nossa viagem foi repleta de momentos inesquecíveis. Exploramos paisagens deslumbrantes, conhecemos culturas fascinantes e criamos memórias que ficarão para sempre em nossos corações. Os desafios que encontramos ao longo do caminho foram superados com determinação e trabalho em equipe. **Em suma**, essa experiência nos trouxe crescimento pessoal, amizades duradouras e uma nova perspectiva sobre o mundo.

Qual é a função da expressão “em suma” no contexto textual?

- a) Indicar uma contradição entre ideias apresentadas.
- b) Introduzir um exemplo para reforçar um argumento.
- c) Apresentar uma causa e efeito no texto.
- d) Expressar uma concessão em relação às informações anteriores.
- e) Sintetizar as ideias principais do texto.

Texto para as questões de 10 a 12

O que é resiliência financeira?

A Semana Nacional de Educação Financeira destaca a capacidade de se recuperar de problemas financeiros.



Está sendo realizada a 10ª Semana Nacional de Educação Financeira, evento de sete dias dedicado a oferecer educação financeira a pessoas e empresas de todo o Brasil. O Fórum Brasileiro de Educação Financeira (FBEF) organizou agendas entre os dias 15 e 21 de maio



com palestras, apresentações e interações que promovem esse conhecimento.

Comemorando a décima edição, o assunto escolhido para protagonizar o evento foi “resiliência financeira”. Você já ouviu falar?

É a capacidade que uma pessoa ou empresa tem de resistir, lidar e se recuperar de choques financeiros. Ou seja, a famosa “volta por cima” que quem passou por questões financeiras complexas precisa dar para tirar a conta do vermelho o quanto antes.

Especialmente após a pandemia global de covid-19, que trouxe um período economicamente desafiador, esse conceito pode ser visto na prática. Agora as empresas e famílias impactadas com o fechamento de alguns setores precisam se reestabelecer.

Para alcançar essa resiliência é preciso ter conhecimentos financeiros. Segundo o Portal do Investidor, um dos comportamentos que levam a ela é alimentar uma reserva de emergência, como já falamos aqui. Isso significa guardar parte do dinheiro para ser utilizado caso algum fato inesperado aconteça.

Além da reserva e da boa utilização do dinheiro, o relatório “Financial Resilience in America”, divulgado em 2021, mostra que o planejamento de uso da renda, a capacidade de buscar informações e de gerenciar possíveis riscos, como uma demissão, são igualmente importantes. Ou seja, para comportamentos resilientes é preciso ter educação financeira.

<https://www.tinoeconomico.com.br/resiliencia-financeira-e-o-tema-central-da-10a-semana-enef/>

Acesso em: 26/05/2023

Questão 10 – De acordo com as explicações apresentadas no texto sobre “resiliência financeira”, assinale a expressão que possui sentido similar.

- a) ascensão monetária.
- b) credibilidade monetária.
- c) sustentabilidade financeira.
- d) insolvência financeira.
- e) derrocada financeira.

Questão 11 – Relacione o título da matéria com a ilustração e escolha a alternativa com o fragmento do texto que melhor traduz o sentido sugerido pela imagem.

- a) “Para alcançar essa resiliência é preciso ter conhecimentos financeiros.”
- b) “... guardar parte do dinheiro para ser utilizado caso algum fato inesperado aconteça.”
- c) “É a capacidade que uma pessoa ou empresa tem de resistir, lidar e se recuperar de choques financeiros.”

- d) “mostra que o planejamento de uso da renda, a capacidade de buscar informações e de gerenciar possíveis riscos, como uma demissão, são igualmente importantes.”
- e) “Especialmente após a pandemia global de covid-19, que trouxe um período economicamente desafiador, esse conceito pode ser visto na prática.”

Questão 12 – A interlocução refere-se à comunicação estabelecida entre o autor do texto e o leitor. É a forma como o autor se dirige ao leitor, busca sua participação, compartilha informações ou provoca reflexões. No contexto da escrita, a interlocução pode ocorrer por meio de questionamentos diretos, convites, apresentação de argumentos, entre outros recursos linguísticos utilizados para estabelecer um diálogo implícito com o leitor. No texto, o autor faz uma interlocução direta com o leitor. Qual a intenção deste questionamento?

- a) Informar sobre a décima edição de um evento.
- b) Apresentar o conceito de resiliência financeira.
- c) Convidar o leitor a participar do evento.
- d) Destacar a importância de lidar com questões financeiras complexas.
- e) Questionar se o leitor já ouviu falar sobre o tema.

Questão 13 – Qual figura de linguagem está presente na tirinha a seguir?



- a) Comparação
- b) Antítese
- c) Sinestesia
- d) Metáfora
- e) Eufemismo



Questão 14 – Assinale a alternativa com o conjunto de palavras que não apresente erro ortográfico.

- a) seção – excessão - encomenda
- b) seção – exceção – paralisação
- c) costume – sessão - encomenda
- d) costume – deslize – incomenda
- e) impecilho – paralização – costume

Questão 15 – A variação formal da língua refere-se ao uso de uma linguagem mais adequada em determinados contextos formais. Ela envolve o emprego de regras gramaticais mais rigorosas, vocabulário mais sofisticado e estruturas linguísticas mais elaboradas. Já a variação coloquial refere-se ao uso de uma linguagem mais informal, próxima da linguagem falada comum e utilizada em situações informais ou cotidianas. Ela envolve o emprego de expressões idiomáticas, gírias, redução de palavras e estruturas gramaticais mais simplificadas. De acordo com as definições, durante uma entrevista de emprego

- a) a variação informal é necessária para conquistar a amizade do entrevistador.
- b) A variação informal demonstra mais autenticidade e espontaneidade.
- c) A variação formal pode ser utilizada apenas em entrevistas para cargos de alta gerência.
- d) A variação formal é importante para transmitir profissionalismo e habilidades de comunicação adequadas.
- e) A variação formal deve ser evitada, pois pode dificultar a compreensão do entrevistador.

MATEMÁTICA E RACIOCÍNIO LÓGICO

Questão 16 – Assinale a sentença cuja informação é **INCORRETA**.

- a) O resto da divisão de 26442 por 247 é 13.
- b) O resto da divisão de 79351 por 132 é 19.
- c) O resto da divisão de 26127 por 128 é 17.
- d) O resto da divisão de 67800 por 175 é 75.
- e) O resto da divisão de 21750 por 199 é 59.

Questão 17 – O número racional positivo $0,\overline{63}$ é representado por:

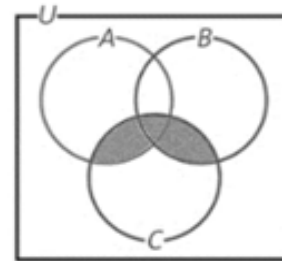
- a) $\frac{1}{63}$
- b) $\frac{63}{100}$

c) $\frac{100}{63}$

d) $\frac{11}{7}$

e) $\frac{7}{11}$

Questão 18 – Observe o diagrama a seguir. A área pintada (destacada) representa qual operação entre os conjuntos?



- a) $C \cup B$
- b) $A \cap B \cap C$
- c) $A \cap C$
- d) $(A \cap C) \cup (B \cap C)$
- e) $(A \cup C) \cap (B \cup C)$

Questão 19 – Uma pesquisa foi realizada com 90 pessoas para avaliar a eficácia de um anúncio de divulgação de dois novos produtos, A e B. Ao final da pesquisa, constatou-se que, dos entrevistados, 40 conheciam o produto A, 22 conheciam os dois produtos (A e B) e 15 não conheciam nenhum dos dois produtos. De acordo com esses dados, quantas pessoas entrevistadas conheciam **APENAS o produto B**?

- a) 57 pessoas
- b) 35 pessoas
- c) 33 pessoas
- d) 18 pessoas
- e) 75 pessoas

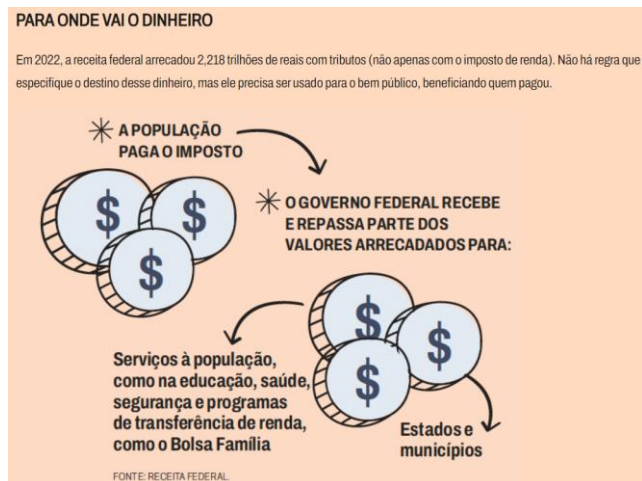
Questão 20 – Numa das reportagens do Jornal TINO ECONÔMICO, trazia um texto sobre o Imposto de Renda 2023. A imagem a seguir mostra uma tabela que a Receita Federal de nosso país divulga para a população ter ciência das alíquotas cobradas para cada faixa de renda mensal do contribuinte. Atualmente, o salário mínimo vigente no país em 01/05/2023 pela MP 1.172/2023 é de R\$ 1320,00. Suponha que um trabalhador receba $1\frac{29}{66}$ salário mínimo. Esse trabalhador, ao se dirigir a um contador e pedindo esclarecimentos quanto à declaração do imposto de renda, o contador informará à ele que seu rendimento.



RENDA MENSAL (R\$)	ALÍQUOTA
Até 1.903,98	não paga
De 1.903,99 até 2.826,65	7,5%
De 2.826,66 até 3.751,05	15%
De 3.751,06 até 4.664,68	22,5%
Acima de 4.664,68	27,5%

- a) não paga alíquota
- b) paga uma alíquota de 7,5%
- c) paga uma alíquota de 15%
- d) paga uma alíquota de 22,5%
- e) paga uma alíquota de 27,5%

Questão 21 – A informação **2,218 trilhões** pode ser representada em notação científica como:



- a) $2,218 \cdot 10^3$
- b) $2,218 \cdot 10^4$
- c) $2,218 \cdot 10^6$
- d) $2,218 \cdot 10^9$
- e) $2,218 \cdot 10^{12}$

Questão 22 – Uma residência consumiu 2500 litros de água em maio e 5 m^3 de água em junho. Pode se afirmar que o consumo total de água desta residência nestes dois meses foi:

- a) 2550 litros
- b) 3000 litros
- c) 5250 litros
- d) 7500 litros
- e) 12500 litros

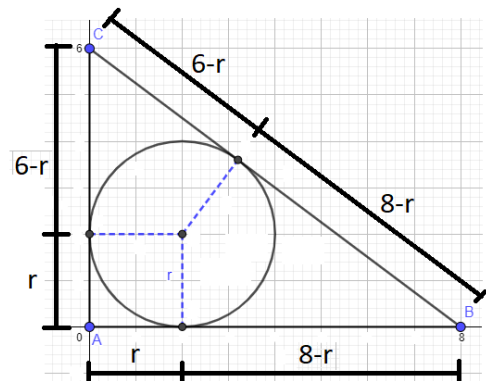
Questão 23 – Uma biblioteca precisa encadernar alguns livros. Uma oficina pode encadernar estes livros em 30 dias, outra em 45 dias. Em quantos dias estas oficinas podem cumprir a tarefa se trabalharam ao mesmo tempo?

- a) 12 dias
- b) 15 dias
- c) 18 dias
- d) 20 dias
- e) 21 dias

Questão 24 – Uma loja de um zoológico municipal oferece, diariamente, à Liga de Conservação dos Animais Silvestres da região em que está localizada, 6% de seu lucro. Num determinado dia, essa Liga recebeu o valor de 720 reais. Qual foi o lucro dessa loja nesse dia?

- a) 15 000 reais
- b) 12 000 reais
- c) 9 000 reais
- d) 7 200 reais
- e) 4 320 reais

Questão 25 – A medida do raio da circunferência inscrita num triângulo retângulo de lados 6 cm, 8 cm e 10 cm é:



- a) 0,75 cm
- b) 1,00 cm
- c) 1,50 cm
- d) 2,00 cm
- e) 2,50 cm



Questão 26 – Dadas as funções reais f e g expressas por $f(x) = x + 2$ e $g(x) = -x^2 + 6x - 4$. A representação gráfica dessas funções no plano cartesiano determina uma reta e uma parábola que se interceptam em dois pontos distintos A e B. Podemos afirmar que a coordenada de um desses pontos (A ou B) é dada por:

- a) (0,2)
- b) (1,1)
- c) (2,4)
- d) (4,6)
- e) (5,1)

Questão 27 – O valor de $(0,125)^{30} \cdot 2^{93}$ é igual a:

- a) 4
- b) 8
- c) 16
- d) 0,25
- e) 0,5

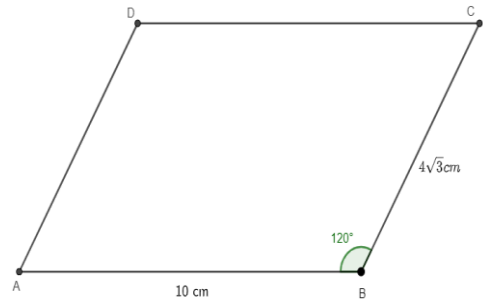
Questão 28 – Seja m e n dois números naturais diferentes de zero. Se $m \cdot n = 10$ e $m + n = 7$, então o valor de $\frac{m}{n} + \frac{n}{m}$ expresso na forma decimal é:

- a) 2,9
- b) 0,29
- c) 0,029
- d) 0,7
- e) 0,17

Questão 29 – Um avião está planando numa região litorânea a uma altura de 500 pés em relação ao nível do mar para monitoramento ambiental. Se $1 \text{ pé} \approx 30 \text{ cm}$, então o avião está a uma altura aproximada de:

- a) 150 km
- b) 15 km
- c) 1,5 km
- d) 150 m
- e) 15 m

Questão 30 – Qual a área de um paralelogramo de lados medindo 10 cm e $4\sqrt{3} \text{ cm}$ sabendo que um dos ângulos internos mede 120° ?



- a) $20\sqrt{3} \text{ cm}$
- b) 40 cm
- c) $40\sqrt{3} \text{ cm}^2$
- d) 30 cm^2
- e) 60 cm^2

CONHECIMENTOS GERAIS E ATUALIDADES

Questão 31 – No sistema de justiça brasileiro, os crimes mais comuns que resultam em prisões estão relacionados a:

- a) Ataques cibernéticos e crimes virtuais.
- b) Inadimplência de pensão alimentícia.
- c) Tráfico de drogas e envolvimento com entorpecentes.
- d) Corrupção e crimes contra a administração pública.
- e) Crimes passionais e delitos motivados por relacionamentos amorosos.

Questão 32 – Em muitos casos, a associação da cor preta a algo negativo fica evidente em frases como: você está na minha "lista negra", ela comprou o computador no "mercado negro" ou sou a "ovelha negra" da família. Mas certas expressões de origem racista são muito menos óbvias.

Para gerar conscientização e sugerir que sejam abolidas do cotidiano, a Defensoria Pública da Bahia lançou para o Dia da Consciência Negra uma espécie de dicionário de expressões racistas.

"Nosso idioma foi construído sob forte influência do período de escravização e muitas destas expressões seguem sendo usadas até hoje, ainda que de forma inconsciente ou não intencional. Precisamos repensar o uso de palavras e expressões que são frutos de uma construção racista", diz o texto de introdução da cartilha, chamada "Expressões Racistas do Cotidiano".

Disponível em: <https://www.bbc.com/portuguese/geral-59366676>



Nesse sentido, racismo significa:

- a) O pensamento de que um indivíduo, por pertencer a um certo gênero, possui menos valores ou capacidades do que outras.
- b) Sentimento preconceituoso relacionado ao status social pertencente a uma pessoa.
- c) Preconceito e discriminação direcionados a alguém tendo em conta sua origem étnico-racial.
- d) Sentimento de desprezo, desvalorização ou de superioridade de uma pessoa em relação à outra devido à religião, à fé ou a um conjunto de crenças.
- e) Preconceito em relação à orientação sexual.

Questão 33 – Gilberto Freyre foi um dos principais sociólogos brasileiros da geração de 1930. Em seu livro "Casa-Grande & Senzala", ele aborda a noção de "democracia racial", que descreve as relações historicamente construídas no Brasil e que deram origem a um povo mestiço. Analise as alternativas a seguir e assinale aquela que define corretamente o pensamento de Gilberto Freyre sobre esse conceito:

- a) Indígenas, africanos e portugueses contribuíram de forma igual para a formação cultural do Brasil, fenômeno denominado por Gilberto Freyre como democracia racial.
- b) A miscigenação resultante de inúmeras relações amorosas entre senhores e escravos – negros e indígenas – contribuiu para a eliminação das diferenças étnicas e para a anulação do racismo no Brasil, de acordo com Gilberto Freyre.
- c) Para Gilberto Freyre, a democracia racial é a garantia de acesso à democracia e aos direitos políticos para toda a população, independentemente da cor de pele, origem étnica ou status social.
- d) Na visão de Gilberto Freyre, as relações amorosas entre senhores brancos e escravos negros poderiam aumentar a violência, resultando em um país com forte presença de preconceito racial.
- e) Gilberto Freyre argumentou que a democracia racial é um ideal a ser alcançado no Brasil, visando à construção de uma sociedade igualitária, na qual todas as raças e etnias sejam respeitadas e tenham as mesmas oportunidades, superando assim as desigualdades históricas.

Questão 34 – Com o breve início de operação das redes de 5G, aumentam as expectativas para a chamada Internet das coisas (IoT).

Assinale a alternativa que explica **corretamente** do que se trata.

- a) Chamamos de Internet das coisas às conexões que hoje já utilizamos, mas que terão muito maior velocidade, entre computadores e impressoras ou outros equipamentos a eles conectados por cabo.
- b) A Internet das Coisas ainda não existe. Ela só será possível nos próximos anos com a chegada das redes de grande velocidade (5G) e o aprimoramento dos computadores (muitos dos quais, equipados com chips de 12ª geração, já estão sendo lançados).
- c) A Internet das Coisas é a conexão entre os equipamentos dotados do Windows 11 e redes de satélite estacionários em baixa altitude, que serão operados a partir de 2022.
- d) A Internet das Coisas, embora ainda seja apenas uma esperança para um futuro (próximos 5 anos), possibilitará a conexão em alta velocidade entre a rede mundial de computadores e equipamentos das fábricas (máquinas, robôs), meios de transporte (trens, aviões) e mesmo equipamentos domésticos, facilitando a logística e aumentando a velocidade de produção.
- e) A Internet das Coisas é um conceito que define a conexão entre objetos físicos (como refrigeradores, máquinas de lavar etc.) com o usuário e a internet.

Questão 35 – Identifique os itens que correspondem a objetivos do desenvolvimento sustentável no campo social e assinale a alternativa correta.

- I. Levar saúde e progresso cultural e material a todos.
- II. Flexibilizar as leis trabalhistas para que as empresas possam recorrer a trabalhadores de países menos desenvolvidos.
- III. Respeitar os modos de vida tradicionais (por exemplo, costumes, saberes e a forma de relação com a natureza).
- IV. Harmonizar a exploração dos recursos, o desenvolvimento tecnológico e as mudanças institucionais focadas no bem-estar social.
- V. Combater a discriminação e práticas abusivas, como o trabalho infantil e o análogo à escravidão.

- a) Somente os itens I, III, IV e V estão corretos.
- b) Somente os itens II, III e V estão corretos.
- c) Somente os itens I, IV e V estão corretos.
- d) Somente os itens II e IV estão corretos.
- e) Todos os itens estão corretos.



Questão 36 – De acordo com a Organização Meteorológica Mundial (OMM), os últimos oito anos foram os mais quentes já registrados no mundo em consequência, principalmente, do aquecimento global. Assinale a alternativa que corresponde a um fator que contribui diretamente para a piora do aquecimento global.

- a) Uso de carros elétricos.
- b) Ter uma alimentação à base de vegetais.
- c) Uso de energia eólica.
- d) Descarte de alimentos.
- e) Optar pelo transporte público.

Questão 37 – O Carnaval do Brasil é a maior festa popular do país. A festa acontece durante os quatro dias que precedem a quarta-feira de cinzas (início da Quaresma). É comumente referida pelos brasileiros como o "Maior Espetáculo na Terra". A festividade é marcada pelos desfiles das escolas de samba dentre outras atrações. Em 2023, aonde aconteceram os desfiles das principais escolas de samba, em São Paulo e no Rio de Janeiro, respectivamente?

- a) Sambódromo do Ibirapuera e Avenida Marquês de Copacabana.
- b) Sambódromo de Interlagos e Museu do Amanhã.
- c) Sambódromo da Independência e Marquês do Arpoador.
- d) Sambódromo do Anhembi e Marquês de Sapucaí.
- e) Sambódromo do Anhembi e Sambódromo de Sapucaí.

Questão 38 – A diversidade cultural brasileira é originária de um povo também diverso, que carrega os costumes de seus ancestrais, com manifestações que passam por todos os campos das artes, mas o acesso a alguns deles não é tão fácil para grande parte da população, por isso destacam-se como principais meios de conhecimento de algum tipo de arte no Brasil:

- a) As exposições e a televisão.
- b) O teatro e os museus.
- c) Os museus e a televisão.
- d) A televisão e o cinema.
- e) O cinema e os museus.

Questão 39 – “Ela começou a cantar aos sete anos de idade em um coral de uma igreja católica no bairro Honório Gurgel, no Rio de Janeiro; na mesma época, fez aulas de dança de salão e chegou a dar aulas como professora de dança, e até hoje se aproveita de sua habilidade como dançarina em seus shows e vídeos.”

[...]

Em 2010, após postar um vídeo no YouTube, Renato Azevedo, o então produtor da gravadora independente Furacão 2000, a chamou para assinar contrato com o selo. [...] Em 2013, foi eleita pela Associação Paulista de Críticos de Arte (APCA) como a "Revelação do Ano" na música. Em 2020, lançou a canção "Me Gusta" com a cantora norte-americana Cardi B e Mike Towers, primeiro single de seu quinto álbum de estúdio, *Versions of Me* (2022). Em março de 2022, tornou-se a primeira mulher latina americana a ocupar o 1º lugar no ranking global da plataforma digital de música Spotify.” (Adap. de wikipedia.org)

O texto se refere a:

- a) Anitta.
- b) Marília Mendonça.
- c) Liniker.
- d) Luisa Sonza.
- e) Ludmilla.

Questão 40 – "Em março de 2022, um aplicativo russo de troca de mensagens muito popular no Brasil foi temporariamente bloqueado por determinação do Ministro do Supremo Tribunal Federal, Alexandre de Moraes, devido a acusações de disseminação de notícias falsas, pirataria e discurso de ódio. Qual é este aplicativo?"

- a) Instagram
- b) Facebook
- c) Telegram
- d) WhatsApp
- e) Signal